

گردد

برگ آزمون ریاضی

پایه ی اول ابتدایی



خلاصه ای از تمام فصل های کتاب



برگ آزمون ریاضی گَراد پایه ی اول ابتدایی

مدیر پروژه و ناظر علمی:
سمیرا فتحیه (کارشناس ارشد ریاضی محض)

مؤلف: مریم اسحاقیان



[انتشارات گراد]





فهرست

۵	برگ آزمون ۱
۷	برگ آزمون ۲
۹	برگ آزمون ۳
۱۱	برگ آزمون ۴
۱۳	برگ آزمون ۵
۱۵	ارزشیابی ۱
۱۷	برگ آزمون ۶
۱۹	برگ آزمون ۷
۲۱	برگ آزمون ۸
۲۳	برگ آزمون ۹
۲۵	برگ آزمون ۱۰
۲۷	ارزشیابی ۲
۲۹	برگ آزمون ۱۱
۳۱	برگ آزمون ۱۲
۳۳	برگ آزمون ۱۳
۳۵	برگ آزمون ۱۴
۳۷	برگ آزمون ۱۵
۳۹	ارزشیابی ۳
۴۱	برگ آزمون ۱۶
۴۳	برگ آزمون ۱۷
۴۵	برگ آزمون ۱۸
۴۷	برگ آزمون ۱۹
۴۹	برگ آزمون ۲۰
۵۱	ارزشیابی ۴
۵۵	برگ آزمون ۲۱
۵۷	برگ آزمون ۲۲
۵۹	برگ آزمون ۲۳
۶۱	برگ آزمون ۲۴
۶۳	برگ آزمون ۲۵
۶۵	ارزشیابی ۵



مقدمه

تکلیف یک فرآیند و فعالیت برای درک بهتر مفاهیم و مطالب کتاب درسی است و این محقق نمی شود مگر با تمرین و ممارست فراوان.

از آن جا که اهمیت تکالیف در روزهای پایانی هفته بیشتر می شود ما را بر آن داشت کتابی فراهم سازیم که علاوه بر ایجاد و افزایش انگیزه های درونی ، سبب ایجاد تشبیه آموخته هایی که دانش آموزان در طول هفته آموخته اند، شود. در این راستا کتابی تحت عنوان "برگ آزمون ریاضی گراد" تدوین نمودیم.

در این کتاب، ۲۵ برگ آزمون همراه با سؤال ها و تمرین هایی که یادگیری در دانش آموز را تقویت می کند گنجانده شده است. در پایان هر ۵ تم از کتاب درسی، یک ارزشیابی قرار داده شده است و سعی بر آن شده که تمامی مطالب مهم و کلیدی این ۵ تم را در برگ گیرد.

معلمان گرامی می توانند با جداسازی هر برگ آزمون آن را مورد ارزشیابی قرار داده و بازخورد آن را به اولیاء و دانش آموزان عزیز ارائه نمایند و آن را در پرونده ی درسی دانش آموز ذخیره نمایند.

امید است کتاب حاضر بتواند در جهت رشد و ارتقاء آموزش دانش آموزان عزیز مفید واقع شود.

در پایان از تمامی معلمان و اولیای گرامی خواشمنندیم نظرها و دیدگاه های ارزشمند خود را از طریق وب سایت انتشارات گراد به آدرس www.gradpress.ir به اطلاع ما برسانید.

هیأت علمی گروه آموزشی گراد

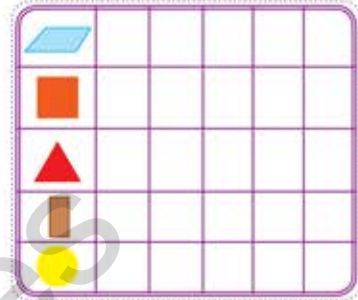



برگ آزمون ریاضی گراد پایه اول ابتدایی



نام و نام خانودگی: آموزگار: کلاس: تاریخ: / /

فرزندم شکل های داخل جدول را در تصویر پیدا کن و به تعداد هر شکل خانه های جدول را رنگ کن.



به تعداد انگشتان باز هر دست تصاویر زیر را بکش.



سمت راست کتابخانه گلدان بکش.


سمت چپ کتابخانه گلدان بکش.

روی میز بشقاب بکش.




پایین میز توپ بکش.

به تعداد هر حیوان که در مزرعه می بینی از خانه های جدول رنگ بزن.



به الگوهای زیر دقت کن و آن را ادامه بده.



کدام الگو درست است. آن را داخل خط بسته بگذار.



شکل هایی که تعدادشان مثل هم است با خط کش به هم وصل کن.



برگ آزمون ریاضی گراد پایه اول ابتدایی

۲





نام و نام خانودگی: آموزگار: کلاس: تاریخ: / /

به تعداد بازیکنان سمت چپ، در سمت راست توپ بکش.

آخرین تصویر در هر ردیف چه رنگی است؟

الگوها را ادامه بده.








با استفاده از شکل های مقابل قطار بکش.

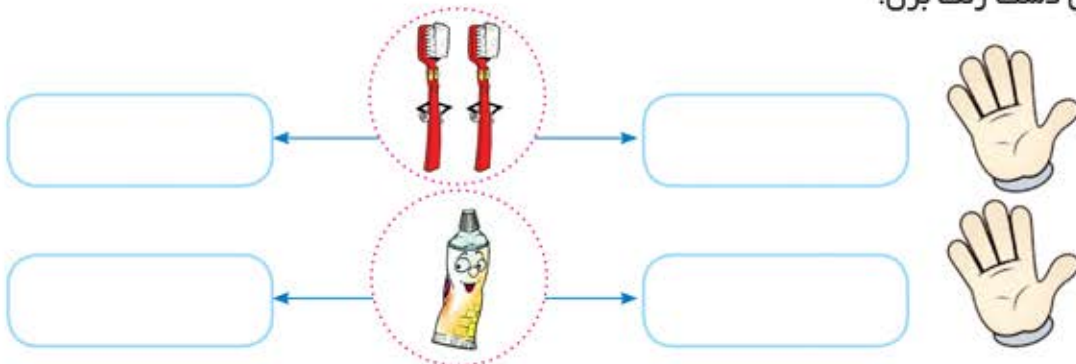
به تعداد شکل های سمت چپ از شکل های سمت راست جدا کن.



به هر دسته از شکل های زیر یک شکل اضافه کن، عددی را که نشان می دهد به انگشت های مربوط به خود وصل کن.



یکی قبل و یکی بعد از تعداد شکل های هر دسته را بکش و به اندازه ی شکل های داخل گردی، از انگشتان دست رنگ بزن.





نام و نام خانودگی: آموزگار: کلاس: تاریخ: / /

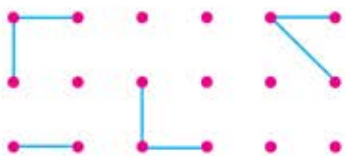
یک شکل به هر دسته اضافه کن، به تعداد آن ها از انگشتان دست رنگ بزن.



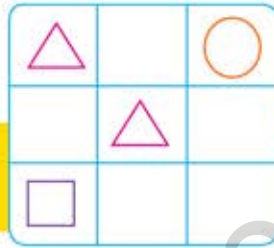
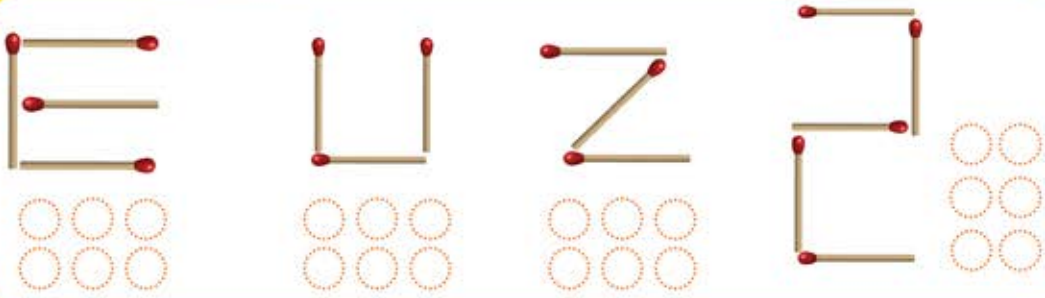
الگو را ادامه بده.



با توجه به شکل سمت چپ، شکل سمت راست را کامل کن.



هر شکل از چند چوب کبریت درست شده است؟ به همان تعداد از گردی ها رنگ بزن.



جدول شگفت انگیز را کامل کن.

هر دسته از شکل های روی بادبان قایق ها از چند شکل کوچک درست شده اند؟ آن ها را رنگ کن و بشمار.



کامل کن.

